

## कक्षा - 5

### विषय - हिन्दी

समय - 1 घण्टा

पूर्णांक - 40

निर्देश:- 1. प्रश्नों को क्रम से हल कीजिए।

2. प्रश्नों के उत्तर साथ दी गई उत्तर-पुस्तिका में दीजिए। प्रश्न-पत्र में कुछ न लिखें।

1. निम्नलिखित शब्दों के एक-एक समानार्थी शब्द लिखिये। 4  
(क) दुनिया (ख) इशारा  
(ग) प्रकाश (घ) खुशी
2. सही शब्द चुनकर वाक्यों की पूर्ति कीजिये :- 3  
(क) माँ-बेटी खाना.....रही हैं। (बनवा/बना)  
(ख) दोनों टीमों के खिलाड़ी अपनी-अपनी यूनीफार्म में.....हैं। (उपस्थित/उपस्थिति)  
(ग) ठेकेदार, मजदूरों से घर.....है। (गिराता/गिरवाता)
3. नीचे लिखे शब्दों को वाक्यों में प्रयोग कीजिये :- 2  
परिश्रमी संस्कार
4. दिये गये संकेत के अनुसार उत्तर दीजिये :- 4  
(क) गाँव में रहने वाला ग्रा— —  
(ख) हिन्दुओं के पूजा का स्थान मं— —  
(ग) शाक खाने वाला — —हा—  
(घ) जो डाक बाँटता है। —कि—
5. रिक्त स्थान में सही शब्द चुनकर भरिये :- 2  
.....(स्त्रीलिंग) अध्यापक, सहपाठी, लड़की, पिता  
.....(पुल्लिंग) पूर्णिमा, स्वामी, चाँदनी, रानी
6. दिये गये वाक्यों में रेखांकित शब्दों का वचन बताइये:- 2  
घोड़ा तेज दौड़ रहा है।.....  
घोड़े तेज दौड़ रहे हैं।.....
7. वाक्य के अनुसार रेखांकित शब्द का सही अर्थ छोटकर लिखिये। 2  
1. आज का दिन बड़ा सुहावना है।  
(क) दिवस (ख) दिन  
(ग) दुखी

2. बदन को तौलिये से ढक लो।

(क) मुख

(ख) शरीर

(ग) प्रार्थना

8. नीचे दिये वाक्यों में रेखांकित शब्द व्याकरण की दृष्टि से क्या है ?

जैसे— संज्ञा, विशेषण, क्रिया-विशेषण, सर्वनाम

(क) बन्दर तेज भागता है।

(ख) सुरेश बाजार से आ रहा है।

(ग) आप कब आओगे।

(घ) नागपुर का सन्तरा अच्छा होता है।

9. दिये गये शब्द किन उपसर्ग एवं प्रत्ययों से मिलकर बने हैं ? मिलान कीजिये।

	उपसर्ग/प्रत्यय	शब्द
(क) असफलता	सु	पात्रता
(ख) सुपात्रता	अ	सफलता
(ग) कमजोर	अन	जोर
(घ) अनपढ़	कम	पढ़

10. अपनी प्रधानाचार्या जी को अचानक आवश्यक कार्य आ जाने हेतु दो दिनों के अवकाश के लिये प्रार्थना-पत्र लिखिये।

11. किसी एक विषय पर लगभग 50 शब्दों में लेख लिखिये।

(क) मेरी माँ

(ख) हमारा विद्यालय

(ग) पिकनिक

12. गद्यांश को पढ़कर नीचे लिखे प्रश्नों के उत्तर दीजिये :-

“व्यायाम अत्यन्त सुखद शारीरिक साधना है। व्यायाम कई प्रकार के होते हैं। कोई देशी और कोई विदेशी कोई एकांकी करने वाला, तो कोई घर के बाहर करने वाला। आज के इस वैज्ञानिक युग में तो व्यायाम के अनेक वैज्ञानिक उपकरण हैं। मान्यता है कि व्यायाम इतना ही करना चाहिए, जिससे शरीर में चुस्ती और स्फूर्ति आ जाए, हल्कापन महसूस होने लगे, रक्त संचार अधिक गतिमान हो जाए, श्वसन क्रिया तीव्रतर हो जाए, जिससे प्राण-वायु का अधिक सेवन हो सके। शरीर को इतना थका देना कि शिथिल हो जाए या व्यक्ति हाँफ जाए, थकावट के कारण शरीर के अंगों में दर्द होने लगे, यह सब व्यायाम नहीं है। बल्कि व्यायाम का उद्देश्य शरीर को सुगठित करना है।”

(क) हमें कितना व्यायाम करना चाहिए।

(ख) व्यायाम कब हानिकारक होता है।

# Subject – English

Time : 1 Hour

Max. Mark : 25

## Instruction :-

- I. No mark is to be made on the question paper.
- II. You will be given a separate answer sheet.  
Read the question and write the answers on the given answer sheet.
- III. Maximum marks for each question are shown against each Question.

1. Choose the appropriate preposition and fill in the blanks. 2  
(To, in, of, beside)  
I am fond-----flying kites-----the evening, when the school is over. A kite shop is--  
-----my house, but I prefer-----make my own kites.
2. Rearrange the following words :- 3
  - (i) a/apple/an/ day/ the /keeps/ away/doctor
  - (ii) many/absent/boys/are/today
  - (iii) neighbour/is/policeman/a/my
3. Make negative words by adding suitable prefixes. 2
  - (i) appear -----
  - (ii) happy -----
  - (iii) Kind -----
  - (iv) secure -----
4. Write one word for the following :- 3
  - (i) A person who treats teeth and gums. -----
  - (ii) A person who flies on aircraft. -----
  - (iii) A person who teaches.. -----
5. Complete the sentences using appropriate forms of the words given in the brackets.  $2\frac{1}{2}$   
Shekhar----- (wake) up early that morning. He ----- (look) out of the window. It ----  
- (rain) heavily. He ----- (wish) it would stop soon. They ----- (have) a cricket match at  
school that day.

6. Fill in the blanks using two other forms of adjectives. 3

(i) tall -----

(ii) beautiful -----

(iii) heavy -----

7. Circle the odd one :- 1/2

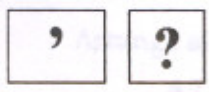
(i) Winter, summer, night, spring

(ii) Apple, potato, mango, orange

8. Match the words in column A with their meanings in column B. 3


A	B
Delicious	sad
Plenty	without company
Alone	famous
Ill	tasty
Unhappy	a lot of
Popular	unwell

9. Make a sentence of your own using the following punctuation marks. 1/2



10. Write a short paragraph describing your new house. 3

11. Write an application to the principal for changing your subject from drawing to music. 2 1/2



# विषय Subject - गणित Mathematics

समय Time : 1 घण्टा Hour

पूर्णांक M.M. : 25

## निर्देश Instructions :

1. प्रश्नों के उत्तर लिखने के लिए अलग से उत्तर पुस्तिका दी जाएगी।  
Separate Answer Sheet will be given for answering the question
2. उत्तर पुस्तिका में प्रश्न संख्या के साथ प्रत्येक प्रश्न का उत्तर दीजिए।  
Write the answer of each question with question no. in answer sheet.
3. सभी प्रश्नों के उत्तर पूर्ण हल सहित दीजिए।  
Give all answers with complete solution.

प्रश्न 1. खाली स्थान भरिए Fill in the blanks -

(i) प्रत्येक संख्या का गुणनखंड.....होता है।

.....is a factor of every number.

(ii) जिन भिन्नों के हर समान होते हैं, उन्हें.....कहते हैं।

Fractions with the same denominators are called.

(iii) 7 KM. 320 M. = ..... M.

(iv) 1 hour = ..... min.

(v) अक्टूबर माह में.....दिन होते हैं।

In the month of October has.....days.

(vi) वृत्त का व्यास उसके.....से गुजरता है।

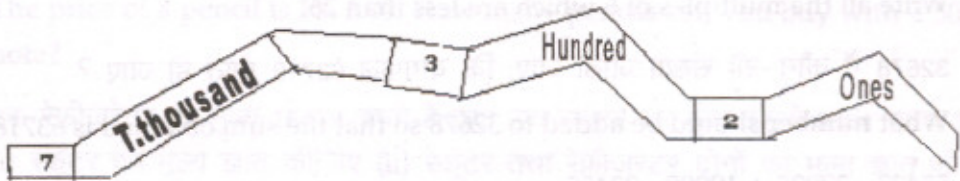
A diameter of a circle passes through the.....

(vii)  $1384 \div 86$

प्रश्न 2. पैटर्न को पूरा कीजिए—

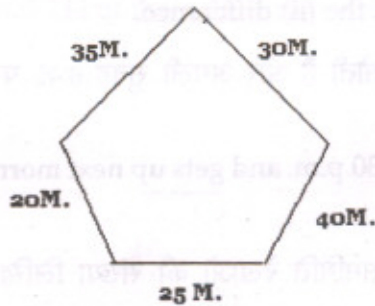
Complete the pattern.





प्रश्न 4. नीचे दिए गए चित्र का परिमाण ज्ञात कीजिए, और प्राप्त परिमाण को मी. व डेसी मी. में व्यक्त कीजिए। 1

Find the perimeter of given figure and express the perimeter so obtained in m. and d. m.



प्रश्न 5. 1 से 9 तक किन्हीं अंकों को इस प्रकार व्यवस्थित कीजिए कि जोड़ 100 प्राप्त हो— 1  
 Arrange all the digits from 1 to 9 so that the sum is 100.

$$\begin{array}{r}
 47 \\
 + 15 \\
 + \square\square \\
 \hline
 100
 \end{array}$$



प्रश्न 6. भागफल 40 प्राप्त करने के लिए कौन-सी संख्या को 8 से भाग दिया जाए ? 1  
 To get the quotient 40 what number is to be divided by 8 ?

प्रश्न 7. सैकड़ों में गिनते हुए अगली चार संख्याएँ लिखिए – 1  
 Counting by hundreds, write the next four numbers from-  
 24671, \_\_\_\_\_, \_\_\_\_\_, \_\_\_\_\_, \_\_\_\_\_

प्रश्न 8. 6 के सभी गुणज लिखो, जो 26 से छोटे हों। 1

Write all the multiples of 6 which are less than 26.

प्रश्न 9. 32678 में कौन-सी संख्या जोड़ी जाए, कि योगफल 63718 प्राप्त हो जाए ? 1

What number should be added to 32678 so that the sum obtained is 63718 ?

प्रश्न 10.  $55423 - 27035 + 19088 - 23455$  1½

प्रश्न 11. अंतर  $2309 - 567$  तथा  $2341 - 254$  का योगफल ज्ञात कीजिए। 1½

Find the sums of two differences  $2309-567$  and  $2341-254$ .

प्रश्न 12. 2, 4, 6, 7 और 0 में से सभी अंकों का उपयोग करके बड़ी से बड़ी और छोटी से छोटी 5-अंकीय संख्याएं बनाईये। प्राप्त संख्याओं का (i) योगफल तथा (ii) अंतर ज्ञात कीजिए। 1½

Using the digits 2, 4, 6, 7 and 0 make the greatest and the smallest 5-digit numbers. Find their (i) sum and the (ii) difference.

प्रश्न 13. रूबी 9:30 अपराह्न पर सोती है और अगली सुबह 6:40 पर जागती है। वह कितने समय सोती है ? 1½

Ruby goes to bed at 9:30 p.m. and gets up next morning at 6:40 A.M. How long does she remain in bed ?

प्रश्न 14. प्रत्येक आकृति के लिए सममिति रेखाओं की संख्या लिखिए - 2

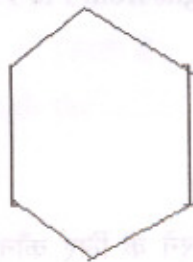
Write the numbers of line of symmetry for each figure.



A



B



C



D

प्रश्न 15. एक बॉक्स में 15 ट्रे रखी जा सकती है। प्रत्येक ट्रे में 64 अंडे हैं। बताओ 5 बॉक्सों में कितने अंडे आ सकते हैं ? 2

A carton can hold 15 trays. Each tray contains 64 eggs. How many eggs can 5 cartons hold?

प्रश्न 16. एक पेंसिल का मूल्य 5.00 रु. है। आप 50 रु. के नोट से कितनी पेंसिलें खरीद सकते हैं?

The price of a pencil is Rs. 5.00. How many pencils can you buy with a 50/- rupee note? 2

प्रश्न 17. एक रेफ्रीजरेटर का मूल्य 16479 रुपये है तथा एक स्कूटर का मूल्य इससे 8864 रुपये अधिक है।  
(i) स्कूटर का मूल्य ज्ञात कीजिए (ii) स्कूटर तथा रेफ्रीजरेटर दोनों का मूल्य ज्ञात कीजिए। 2

The cost of a refrigerator is 16479 Rs. And the cost of a scooter is 8864 Rs. More than the refrigerator. Find (i) the cost of the scooter and (ii) the total cost of the refrigerator and the scooter ?

प्रश्न 18. एक दुकानदार ने 480 केले खरीदे। इनमें से 13 केले खराब निकल गए। यदि उसने 144 केले बेच दिए हों तो उसके पास बिक्री के लिए कितने केले शेष रहे ? 2

A shopkeeper purchased 480 bananas. Later he found that 13 of them are spoiled completely. If he had sold 144 of them, how many bananas are left now for sale?